


*Государственный экзамен по физике
Физический факультет МГУ имени М.В.Ломоносова
Направление подготовки магистров «Физика» (03.04.02),
программа «Биофизика»*

Билет № 1

1. Биологические и физические критерии живых систем. Роль химии.
2. Факторы, определяющие ширину и форму сигнала ЭПР: времена продольной релаксации и поперечной релаксации, g-фактор, изотропное и анизотропное сверхтонкое взаимодействие.
3. Определите критическую концентрацию мицеллообразования для сферических липидных мицелл радиусом 2 нм, содержащих по 1000 молекул липида и имеющих поверхностное натяжение $20 \text{ мДж}\cdot\text{м}^{-2}$?

Заведующий отделением экспериментальной и теоретической физики,
профессор



Б.И. Садовников

*Государственный экзамен по физике
Физический факультет МГУ имени М.В.Ломоносова
Направление подготовки магистров «Физика» (03.04.02),
программа «Биофизика»*

Билет № 2

1. Идеи симметрии в физике и биологии. Симметрии в живых системах как причины и как свойства. Типы симметрий. Хиральность.
2. Ближний и дальний порядок в разных фазовых состояниях вещества.
3. Оцените вязкость разбавленной суспензии эритроцитов, считая, что клетки друг с другом не взаимодействуют. Вязкость буферного раствора $10^{-3} \text{ Па}\cdot\text{с}$, объемная доля эритроцитов составляет 2%.

Заведующий отделением экспериментальной и теоретической физики,
профессор



Б.И. Садовников

*Государственный экзамен по физике
Физический факультет МГУ имени М.В.Ломоносова
Направление подготовки магистров «Физика» (03.04.02),
программа «Биофизика»*

Билет № 3

1. Активные среды и автоволновая самоорганизация в биологических системах различных иерархических уровней. Основные математические модели.
2. Устройство и механизм работы жгутиков бактерий.
3. Изобразите качественно спектр ЯМР этанола ($\text{CH}_3\text{-CH}_2\text{-OH}$) с учетом химического сдвига и спин-спинового взаимодействия.

Заведующий отделением экспериментальной и теоретической физики,
профессор


Б.И. Садовников

*Государственный экзамен по физике
Физический факультет МГУ имени М.В.Ломоносова
Направление подготовки магистров «Физика» (03.04.02),
программа «Биофизика»*

Билет № 4


1. Физические принципы построения и функционирования молекулярных машин в живых системах. Протонный и натриевый насосы, сократительные белки, микротрубочки.

2. Условия равновесия фаз в гетерогенной системе.

3. Взаимодействие двух атомов в равновесном состоянии описывается потенциалом Леннарда-Джонса $\xi(r) = \varepsilon \left[\left(r_0 / r \right)^{12} - \left(r_0 / r \right)^6 \right]$.

Константа взаимодействия ε равна $0,8 \cdot 10^{-18}$ Дж, а равновесное расстояние (r_0) составляет 0,33 нм. Какая сила будет действовать на атомы при расстоянии между ними, равном половине равновесного?

Заведующий отделением экспериментальной и теоретической физики,
профессор


Б.И. Садовников

*Государственный экзамен по физике
Физический факультет МГУ имени М.В.Ломоносова
Направление подготовки магистров «Физика» (03.04.02),
программа «Биофизика»*


Билет № 5

1. Хиральность как физический фактор стратификации структурных уровней в биомолекулах, как инструмент фолдинга и как элемент конструкций молекулярных машин.

2. Физические основы первичных кинетических и термодинамических изотопных эффектов дейтерия.

3. Чему равно линейное натяжение мембраны, если критический размер пор равен 2,6 нм, а поверхностное натяжение мембраны $0,03$ Дж/м²?

Заведующий отделением экспериментальной и теоретической физики,
профессор


Б.И. Садовников

*Государственный экзамен по физике
Физический факультет МГУ имени М.В.Ломоносова
Направление подготовки магистров «Физика» (03.04.02),
программа «Биофизика»*


Билет № 6

1. Физико-химические предпосылки и возможные сценарии формирования предшественников живых клеток.

2. Вторичная структура полипептидов. Стабильность α -спирали и β -структуры в воде. Переход спираль-клубок.

3. Оцените (в том числе в единицах kT) величину энергии связи ионов Na^+ и Br^- на расстоянии 0,293 нм, равном сумме двух ионных радиусов среде с диэлектрической проницаемостью 80. Сравните ее с энергией ковалентных связей $E(\text{C}-\text{H}) \sim 400$ кДж*М⁻¹.

Заведующий отделением экспериментальной и теоретической физики,
профессор



Б.И. Садовников

*Государственный экзамен по физике
Физический факультет МГУ имени М.В.Ломоносова
Направление подготовки магистров «Физика» (03.04.02),
программа «Биофизика»*

Билет № 7

1. Биофизические аспекты трансформации типов клеток в биологической эволюции.
2. Растворимость. Свободная энергия переноса. Термодинамический критерий гидрофобности и гидрофильности.
3. Оцените энергетический барьер для нуклеации кристалла лизоцима, если критический размер кристаллита составляет 50 нм, свободная энергия поверхности равна $1,2 \text{ мДж} \cdot \text{м}^{-2}$, температура плавления равна $50 \text{ }^\circ\text{C}$, а температура системы на $1 \text{ }^\circ\text{C}$ ниже.

Заведующий отделением экспериментальной и теоретической физики,
профессор



Б.И. Садовников

*Государственный экзамен по физике
Физический факультет МГУ имени М.В.Ломоносова
Направление подготовки магистров «Физика» (03.04.02),
программа «Биофизика»*

Билет № 8

1. Биофизические аспекты коэволюции двух ветвей геобиосферы.
2. Генерация и распространение нервного импульса (уравнение Ходжкина-Хаксли).
3. Вычислите свободную энергию переноса одного моля одновалентных катионов натрия радиусом 0,1 нм из среды с диэлектрической проницаемостью 10 в среду с диэлектрической проницаемостью 80.

Заведующий отделением экспериментальной и теоретической физики,
профессор



Б.И. Садовников

*Государственный экзамен по физике
Физический факультет МГУ имени М.В.Ломоносова
Направление подготовки магистров «Физика» (03.04.02),
программа «Биофизика»*

Билет № 9

1. Типы льда. Каковы причины возникновения остаточной энтропии во льду Ih?
2. Понятие о самоорганизации белков. Сформулируйте "Парадокс Левинталя" и опишите его решение. Что такое нуклеационный механизм сворачивания? Роль хиральности.
3. Полимерная цепь в хорошем растворителе удерживается с помощью двух лазерных пинцетов. Как будет выглядеть кривая зависимости сила-растяжение? Как изменится сила, приложенная к пинцетам, если при постоянном расстоянии между ними постепенно заменить хороший растворитель плохим?

Заведующий отделением экспериментальной и теоретической физики,
профессор

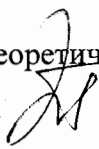

Б.И. Садовников

Государственный экзамен по физике
Физический факультет МГУ имени М.В.Ломоносова
Направление подготовки магистров «Физика» (03.04.02),
программа «Биофизика»

Билет № 10

1. Магнитные наноструктуры и железо в биогенных системах. Ферритин. Магнитосомы. Нанофазные оксиды железа и нейродегенеративные патологии.
2. Строение нуклеиновых кислот. Иерархия структур ДНК.
3. Рассчитайте величину энтропии протонного беспорядка в тетрамере молекул воды.

Заведующий отделением экспериментальной и теоретической физики,
профессор

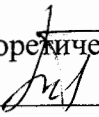

Б.И. Садовников

Государственный экзамен по физике
Физический факультет МГУ имени М.В.Ломоносова
Направление подготовки магистров «Физика» (03.04.02),
программа «Биофизика»

Билет № 11

1. Спектроскопия ЯМР. Химический сдвиг: σ (Гц) и δ (м. д.). Анизотропия химического сдвига.
2. Модели эволюции нуклеотидных последовательностей. Разброс скоростей эволюции позиций.
3. Как связана среднеквадратичная флуктуация угла поворота ($\langle \theta^2 \rangle$) с вращательным коэффициентом диффузии для сферической вирусной частицы (вириона)? Оцените время поворота вириона на угол 90° , если тепловая энергия (kT) составляет $4,1 \cdot 10^{-21}$ Дж, вязкость равна $0,001$ Па·с, а вирион можно считать сферой с радиусом 2 мкм. Сравните время, необходимое для перемещения фиксированной точки поверхности вириона на расстояние 2λ , со временем трансляционной диффузии на такое же расстояние.

Заведующий отделением экспериментальной и теоретической физики,
профессор



Б.И. Садовников

Государственный экзамен по физике
Физический факультет МГУ имени М.В.Ломоносова
Направление подготовки магистров «Физика» (03.04.02),
программа «Биофизика»

Билет № 12

1. Термодинамика тепловой и холодной денатурации белка.
2. Для константы кислотности лизина значение pK_a равно 10 , а для полилизина $9,5$. Как объяснить такой сдвиг?
3. Определите равновесный угол смачивания для капли воды на поверхности листа настурции, если поверхностные свободные энергии для границ раздела лист–воздух, лист–вода и воздух–вода равны 18 ; $73,2$ и 72 мДж/м², соответственно.

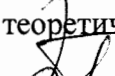
Заведующий отделением экспериментальной и теоретической физики,
профессор


Б.И. Садовников

*Государственный экзамен по физике
Физический факультет МГУ имени М.В.Ломоносова
Направление подготовки магистров «Физика» (03.04.02),
программа «Биофизика»*

Билет № 13

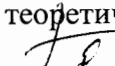
1. Хиральные спиральные структуры из молекул воды.
2. Модели популяционной (демографической) динамики.
3. Рассчитайте рН водного раствора аргинина с концентрацией 0,2 М, если для аргинина $pK_a = 12,5$.

Заведующий отделением экспериментальной и теоретической физики,
профессор  Б.И. Садовников

*Государственный экзамен по физике
Физический факультет МГУ имени М.В.Ломоносова
Направление подготовки магистров «Физика» (03.04.02),
программа «Биофизика»*

Билет № 14


1. Структура и эволюция РНК. Консервация вторичной структуры РНК.
2. Строение, механические характеристики и функции основных компонентов цитоскелета эукариот.
3. Проанализируйте парный потенциал Леннарда-Джонса $U(r) = A/r^{12} - B/r^6$, где $A = 10^{-134}$ Дж*м¹², $B = 10^{-77}$ Дж*м⁶.
Найдите равновесное расстояние между двумя атомами и соответствующую энергию системы. Представьте эту энергию в единицах kT ($k = 1,38 \cdot 10^{-23}$ Дж*К⁻¹, $T = 270^\circ\text{C}$). Найдите максимальную силу притяжения и соответствующее ему расстояние между атомами.

Заведующий отделением экспериментальной и теоретической физики,
профессор  Б.И. Садовников

*Государственный экзамен по физике
Физический факультет МГУ имени М.В.Ломоносова
Направление подготовки магистров «Физика» (03.04.02),
программа «Биофизика»*

Билет № 15

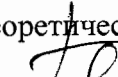
1. Основные импульсные последовательности двумерной спектроскопии ЯМР.
2. Генетический код и трансляция.
3. Изобразите качественно спектр ЭПР убихинона, если $\rho(\text{CH}_2) = 0,5 \rho(\text{CH}_3)$.

Заведующий отделением экспериментальной и теоретической физики,
профессор  Б.И. Садовников

*Государственный экзамен по физике
Физический факультет МГУ имени М.В.Ломоносова
Направление подготовки магистров «Физика» (03.04.02),
программа «Биофизика»*

Билет № 16


1. Структура и эволюция РНК. Компенсаторные замены и методы сравнения. Термодинамический подход.
2. Биофизика мышечного сокращения: модель скользящих нитей, уравнение Хилла.
3. Комар, имеющий размеры порядка 10^{-3} м летит со скоростью 10^{-1} м·с⁻¹. Найдите для него число Рейнольдса, считая, что плотность и динамическая вязкость воздуха равны $1,3$ кг·м⁻³ и $1,8 \cdot 10^{-5}$ Н·с·м⁻².

Заведующий отделением экспериментальной и теоретической физики,
профессор  Б.И. Садовников

*Государственный экзамен по физике
Физический факультет МГУ имени М.В.Ломоносова
Направление подготовки магистров «Физика» (03.04.02),
программа «Биофизика»*

Билет № 17


1. Структура и эволюция РНК. Стохастические контекстно-свободные грамматики. Ковариантные модели для профилей РНК.
2. Реакционные центры фотосинтезирующих организмов: состав и скорости элементарных стадий.
3. Изобразите качественно спектр ЭПР пластохинона, если $\rho(\text{CH}_2) = \rho(\text{CH}_3) = \rho(\text{CH})$.

Заведующий отделением экспериментальной и теоретической физики,
профессор  Б.И. Садовников

*Государственный экзамен по физике
Физический факультет МГУ имени М.В.Ломоносова
Направление подготовки магистров «Физика» (03.04.02),
программа «Биофизика»*

Билет № 18

1. Основы ЯМР-томографии.
2. Основные параметры вторичных и третичных структур белков.
3. Сосуд объемом V_0 разделен перегородкой на две части с объемами $V_1 = \frac{2}{3}V_0$ и $V_2 = \frac{1}{3}V_0$. В большей части находится 0,1 моль идеального газа; в меньшей же создан высокий вакуум. Определите изменение энтропии при удалении перегородки.


Заведующий отделением экспериментальной и теоретической физики,
профессор  Б.И. Садовников

*Государственный экзамен по физике
Физический факультет МГУ имени М.В.Ломоносова
Направление подготовки магистров «Физика» (03.04.02),
программа «Биофизика»*

Билет № 19

1. Основы метода полимеразной цепной реакции.
2. Активный транспорт веществ и ионов через клеточные мембраны.
3. Вирус имеет форму цилиндра высотой 200 нм и диаметром 10 нм. Найдите критическую концентрацию образования нематической жидкокристаллической фазы в соответствии с теорией Онсагера.

Заведующий отделением экспериментальной и теоретической физики,
профессор



Б.И. Садовников

*Государственный экзамен по физике
Физический факультет МГУ имени М.В.Ломоносова
Направление подготовки магистров «Физика» (03.04.02),
программа «Биофизика»*

Билет № 20

1. Принципы электронной микроскопии.
2. Пространственное и электронное строение пептидной группы.
3. Вычислить высоту поднятия жидкости в капилляре диаметром 1 мкм, если угол смачивания составляет 30° , поверхностное натяжение жидкости $60 \cdot 10^{-3}$ Н/м.

Заведующий отделением экспериментальной и теоретической физики,
профессор



Б.И. Садовников

*Государственный экзамен по физике
Физический факультет МГУ имени М.В.Ломоносова
Направление подготовки магистров «Физика» (03.04.02),
программа «Биофизика»*

Билет № 21

1. Клеточный цикл. Фазы клеточного цикла.
2. Биофизические критерии устойчивости экосистем.
3. Внутри мыльного пузыря радиуса r находится идеальный газ. Наружное давление p_0 , поверхностное натяжение мыльной воды α . Найти разность между молярной теплоемкостью газа при нагреве его внутри пузыря и молярной теплоемкостью этого газа при постоянном давлении.

Заведующий отделением экспериментальной и теоретической физики,
профессор



Б.И. Садовников

*Государственный экзамен по физике
Физический факультет МГУ имени М.В.Ломоносова
Направление подготовки магистров «Физика» (03.04.02),
программа «Биофизика»*

Билет № 22

1. Пассивный транспорт веществ и ионов через клеточные мембраны.
2. Зависимость скорости биохимической реакции от температуры.
3. Оцените скорость движения цепи ДНК, содержащей 1 млн пар оснований, в полиакриламидном геле в электрическом поле с напряженностью 2 В/см. Во сколько раз увеличилась бы скорость, если бы в этом эксперименте использовали фрагменты ДНК в десять раз меньшего размера? Молекула ДНК находится в В-форме, с расстоянием между фосфатными группами 1,7 Å, нет никаких эффектов конденсации заряда, вязкость раствора составляет 0,002 Па·с, а длина куновского сегмента – 300 мономеров.

Заведующий отделением экспериментальной и теоретической физики,
профессор



Б.И. Садовников

*Государственный экзамен по физике
Физический факультет МГУ имени М.В.Ломоносова
Направление подготовки магистров «Физика» (03.04.02),
программа «Биофизика»*

Билет № 23

1. Энергетический метаболизм клетки и его регуляция.
2. Полиморфизм структур льдов.
3. К поверхности заряженных сферических вирусных частиц прикреплены полимерные цепи, например, полиэтиленгликоля. При каком расстоянии между частицами энтропийные силы, обусловленные взаимодействием цепей полимеров, станут значительными по сравнению с силами электростатического отталкивания?

Заведующий отделением экспериментальной и теоретической физики,
профессор



Б.И. Садовников

*Государственный экзамен по физике
Физический факультет МГУ имени М.В.Ломоносова
Направление подготовки магистров «Физика» (03.04.02),
программа «Биофизика»*

Билет № 24

1. Атомно-силовая микроскопия.
2. Митохондрии: строение, состав, функции.
3. Методом дифференциальной сканирующей калориметрии определяется зависимость энтальпии образца от температуры. Для перехода спираль-клубок в α -спиральном полипептиде ширина перехода уменьшается при увеличении длины полимера. Как объяснить это явление с точки зрения термодинамики перехода?

Заведующий отделением экспериментальной и теоретической физики,
профессор



Б.И. Садовников

*Государственный экзамен по физике
Физический факультет МГУ имени М.В.Ломоносова
Направление подготовки магистров «Физика» (03.04.02),
программа «Биофизика»*

Билет № 25

1. Определение времен спин-спиновой релаксации и спин-решеточной релаксации. Метод спинового эха.
2. Доннановское равновесие. Осмотические эффекты в клетке.
3. Оцените, во сколько раз должно увеличиться содержание воды в образце при использовании метода микроскопии расширения, чтобы можно было оптически разрешить два флуоресцентных объекта, имеющих максимум флуоресценции около 400 нм и изначально расположенных в образце на расстоянии 100 нм. Считать, что обе молекулы находятся в фокальной плоскости объектива с единичной численной апертурой.

Заведующий отделением экспериментальной и теоретической физики,
профессор


Б.И. Садовников